

ポイント

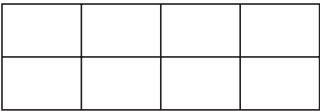
ものの ひろさを，おなじ　いたが　なんまいぶんかで　くらべましょう。

ドリル

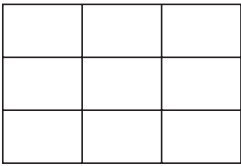
1

アと　イでは，どちらが　ひろいでしょうか。

ア



イ




2


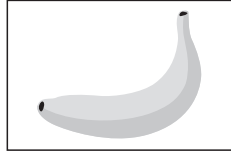

アと　イでは，どちらが  
ひろいでしょうか。

ア

イ



**3** くだものの シールが あります。



ぱいなっぷるの シールは、ばなの シール 2まいぶんの ひろさです。

ばなの シールは、れもんの シール 4まいぶんの ひろさです。

(1) ぱいなっぷるの シールは れもんの シール なんまいぶんの ひろさですか。

(2) れもんの シール 12まいぶんの ひろさは、ばなの シール なんまいぶんの ひろさと おなじですか。

# ひろさ

## かいとう

1

イ

2

ア

3

(1) 8まいぶん

(2) 3まいぶん

## ヒント

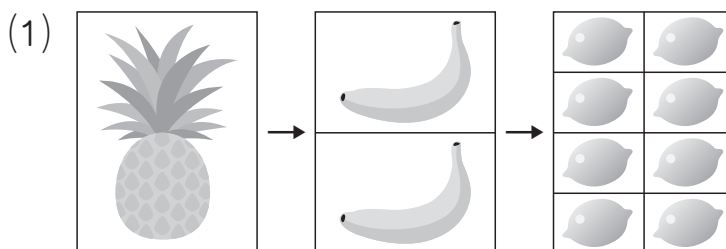
1

アは  が 8まいぶん, イは  が 9まいぶんだから, イのほうが,  が 1まいぶん ひろい。

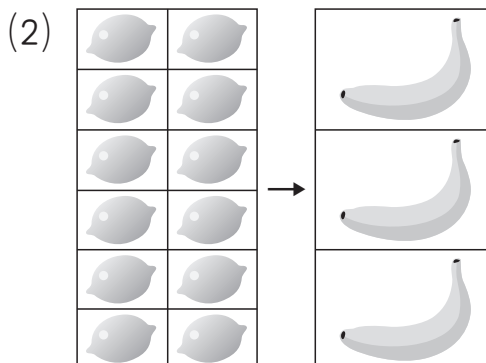
2

アは  が 13まいぶん, イは  が 12まいぶんだから, アのほうが 1まいぶん ひろい。

3



ぱいなっふる 1まいの ひろさは, れもん 8まいの ひろさと おなじです。



れもん 12まいの ひろさは, ばなな 3まいの ひろさと おなじです。